

ΓΕΩΜΕΤΡΙΑ ΓΕΝΙΚΗΣ ΠΑΙΔΕΙΑΣ Β' ΛΥΚΕΙΟΥ 2004

ΕΚΦΩΝΗΣΕΙΣ

ΘΕΜΑ 1ο

- A.** Να αποδείξετε ότι το εμβαδόν ενός ορθογωνίου παραλληλογράμου ισούται με το γινόμενο των πλευρών του.

Μονάδες 11

- B.** Να γράψετε στο τετράδιό σας τα γράμματα της **Στήλης I** και δίπλα σε κάθε γράμμα τον αριθμό της **Στήλης II** που αντιστοιχεί στο σωστό τύπο.

Στήλη I	Στήλη II
α. Εμβαδόν τραπεζίου	1. $E = \tau\rho$
β. Εμβαδόν τριγώνου	2. $E = \frac{\pi R^2 \mu}{360}$
γ. Εμβαδόν κανονικού πολυγώνου	3. $E = \frac{(B + \beta)\nu}{2}$
	4. $E = \frac{1}{2} P_\nu \alpha_\nu$
	5. $E = a\upsilon_\alpha$

Στη Στήλη II περισεύουν δύο τύποι.

Μονάδες 6

- Γ.** Να χαρακτηρίσετε τις προτάσεις που ακολουθούν, γράφοντας στο τετράδιό σας τη λέξη "**Σωστό**", αν η πρόταση είναι σωστή, και "**Λάθος**", αν η πρόταση είναι λάθος, δίπλα στο γράμμα που αντιστοιχεί σε κάθε πρόταση.

α. Σε κάθε τρίγωνο ABΓ ισχύει η σχέση $a^2 = \beta^2 + \gamma^2 - 2\beta\gamma$.

β. Σε κάθε κανονικό ν-γωνο ακτίνας R με πλευρά λ_ν και απόστημα α_ν ισχύει

$$\text{η σχέση: } \alpha_\nu^2 + \frac{\lambda_\nu^2}{2} = R^2.$$

γ. Σε κάθε ορθογώνιο τρίγωνο, το τετράγωνο του ύψους του που αντιστοιχεί στην υποτείνουσα είναι ίσο με το γινόμενο των προβολών των κάθετων πλευρών του στην υποτείνουσα.

δ. Το άθροισμα των τετραγώνων δύο πλευρών ενός τριγώνου ισούται με το διπλάσιο του τετραγώνου της διαμέσου που περιέχεται μεταξύ των πλευρών αυτών αυξημένο κατά το μισό του τετραγώνου της τρίτης πλευράς.

Μονάδες 8

ΘΕΜΑ 2ο

Δίνεται κανονικό πολύγωνο $A_1 A_2 \dots A_n$ εγγεγραμμένο σε κύκλο με κέντρο O και ακτίνα R . Αν η γωνία του πολυγώνου είναι $\varphi_n=150^\circ$, να βρείτε:

- α. Τον αριθμό των πλευρών του πολυγώνου.
- β. Την κεντρική γωνία του πολυγώνου ω_n .
- γ. Το εμβαδόν του πολυγώνου συναρτήσει της ακτίνας R .

Μονάδες 10

Μονάδες 8

Μονάδες 7

ΘΕΜΑ 3ο

Δίνεται οξυγώνιο τρίγωνο $AB\Gamma$ με μήκη πλευρών $\gamma=2$, $\beta = 1 + \sqrt{2}$ και εμβαδόν

$$(AB\Gamma) = \frac{\beta\gamma\sqrt{2}}{4}.$$

- α. Να αποδείξετε ότι το μήκος της πλευράς $\alpha = \sqrt{3}$.
- β. Να υπολογίσετε την ακτίνα R του περιγεγραμμένου κύκλου του τριγώνου $AB\Gamma$.
- γ. Να υπολογίσετε το μήκος της προβολής της πλευράς AB πάνω στη πλευρά $B\Gamma$.

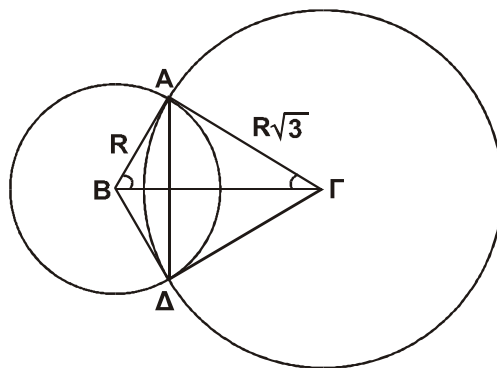
Μονάδες 9

Μονάδες 8

Μονάδες 8

ΘΕΜΑ 4ο

Δίνεται ορθογώνιο τρίγωνο $AB\Gamma$ ($\hat{A} = 90^\circ$) με μήκη πλευρών $AB=R$ και $A\Gamma = R\sqrt{3}$. Γράφουμε τους κύκλους (B, R) και $(\Gamma, R\sqrt{3})$.



Να υπολογίσετε:

- α. Το μήκος της πλευράς $B\Gamma$ συναρτήσει του R .
- β. Τις γωνίες \hat{B} και $\hat{\Gamma}$.
- γ. Το εμβαδόν του τετραπλεύρου $AB\Delta\Gamma$ συναρτήσει του R .
- δ. Το εμβαδόν του κοινού μέρους των δύο κύκλων συναρτήσει του R .

Μονάδες 4

Μονάδες 4

Μονάδες 8

Μονάδες 9

ΑΠΑΝΤΗΣΕΙΣ

ΘΕΜΑ 1ο

A. Θεωρία. - Θεώρημα 1 σελ. 213 σχολικού βιβλίου.

α	β	γ
3	1	4

B.

α	β	γ	δ
Λ	Λ	Σ	Σ

Γ.

ΘΕΜΑ 2ο

α. Γνωρίζουμε ότι: $\varphi_v = 180^\circ - \frac{360^\circ}{v}$.

Επειδή $\varphi_v = 150^\circ$, βρίσκουμε $150^\circ = 180^\circ - \frac{360^\circ}{v}$

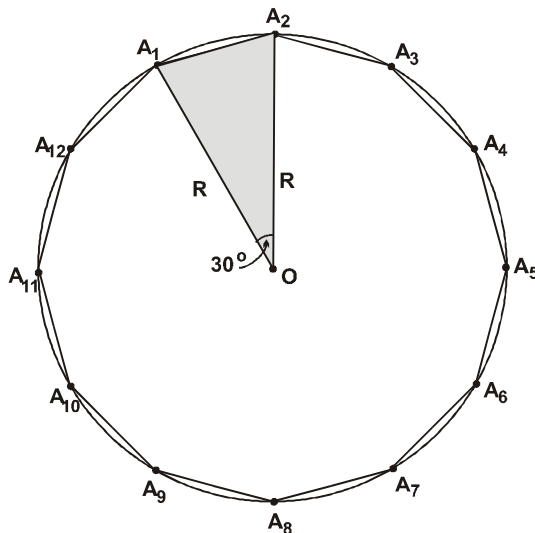
$$\frac{360^\circ}{v} = 30^\circ \Leftrightarrow v = \frac{360}{30} = 12.$$

Επομένως ο αριθμός των πλευρών του ζητούμενου κανονικού πολυγώνου είναι 12.

β. Γνωρίζουμε ότι: $\omega_v = \frac{360^\circ}{v}$.

Επομένως για $v=12$, βρίσκουμε $\omega_{12} = \frac{360^\circ}{12} = 30^\circ$.

γ. Σύμφωνα με το παρακάτω σχήμα είναι:



$$E_{12} = 12 \cdot (A_1OA_2) = 12 \cdot \frac{1}{2} R \cdot R \cdot \eta\mu 30^\circ = 6 \cdot R^2 \cdot \frac{1}{2} = 3R^2 \quad \tau.μ.$$

ΘΕΜΑ 3ο

α. Είναι $(AB\Gamma) = \frac{1}{2} \beta\gamma \cdot \eta\mu A$. Έτσι $\frac{\beta\gamma\sqrt{2}}{4} = \frac{1}{2} \beta\gamma \cdot \eta\mu A$. Άρα, $\eta\mu A = \frac{\sqrt{2}}{2}$,

δηλαδή $A = \frac{\pi}{4}$ (αφού το τρίγωνο είναι οξυγώνιο). Αντικαθιστώντας τώρα στο νόμο συνημιτόνων, έχουμε για την πλευρά α :

$$\alpha^2 = \beta^2 + \gamma^2 - 2\beta\gamma \cdot \sigma\upsilon\nu A = (1 + \sqrt{2})^2 + 2^2 - 2(1 + \sqrt{2}) \cdot 2 \sigma\upsilon\nu \frac{\pi}{4} =$$

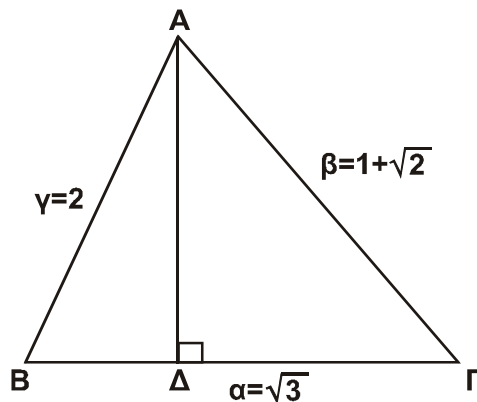
$$= 1 + 2\sqrt{2} + 2 + 4 - 2 \cdot (1 + \sqrt{2})\sqrt{2} = 1 + 2\sqrt{2} + 2 + 4 - 2\sqrt{2} - 4 = 3$$

και συνεπώς $\alpha = \sqrt{3}$.

β. Από τον τύπο $(AB\Gamma) = \frac{\alpha\beta\gamma}{4R}$ προκύπτει:

$$\frac{(1 + \sqrt{2})2 \cdot \sqrt{2}}{4} = \frac{\sqrt{3} \cdot (1 + \sqrt{2}) \cdot 2}{4R} \Leftrightarrow R = \frac{\sqrt{3}}{\sqrt{2}} \Leftrightarrow R = \frac{\sqrt{6}}{2}.$$

γ.



Ισχύει ότι $\beta^2 = \alpha^2 + \gamma^2 - 2\alpha \cdot B\Delta$ (αφού το τρίγωνο είναι οξυγώνιο).

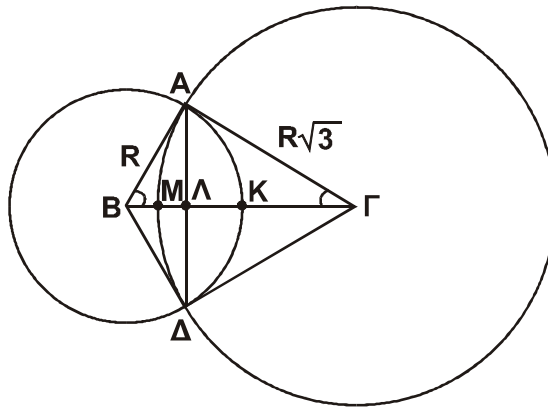
$$\text{Άρα } (1 + \sqrt{2})^2 = 2^2 + (\sqrt{3})^2 - 2 \cdot \sqrt{3} \cdot B\Delta \Leftrightarrow 1 + 2\sqrt{2} + 2 = 4 + 3 - 2\sqrt{3} \cdot B\Delta \Leftrightarrow$$

$$2\sqrt{3} \cdot B\Delta = 4 - 2\sqrt{2} \Leftrightarrow B\Delta = \frac{2 - \sqrt{2}}{\sqrt{3}} = \frac{(2 - \sqrt{2})\sqrt{3}}{3}.$$

ΘΕΜΑ 4ο

- α. Εφαρμόζοντας το πυθαγόρειο θεώρημα στο ορθογώνιο τρίγωνο ΑΒΓ έχουμε $B\Gamma^2 = AB^2 + A\Gamma^2$. Δηλαδή $B\Gamma^2 = R^2 + 3R^2 = 4R^2 \Leftrightarrow B\Gamma = 2R$.
- β. Αφού στο ορθογώνιο τρίγωνο ΑΒΓ είναι $AB = R = \frac{2R}{2} = \frac{B\Gamma}{2}$ έχουμε $\hat{\Gamma} = 30^\circ$,
οπότε $\hat{B} = 60^\circ$.
- γ. Τα ορθογώνια τρίγωνα ΑΒΓ, ΒΔΓ είναι ίσα αφού $AB = BD = R$, $A\Gamma = \Gamma\Delta = R\sqrt{3}$,
οπότε
 $(AB\Gamma) = (B\Gamma\Delta)$, άρα $(AB\Gamma\Delta) = 2(AB\Gamma) =$
 $2 \cdot \frac{1}{2} AB \cdot A\Gamma = AB \cdot A\Gamma = R \cdot R\sqrt{3} = R^2\sqrt{3}$ τ.μ.

δ.



Το εμβαδόν του κοινού μέρους ΑΜΔΚΑ των δυο κύκλων ισούται με το άθροισμα των εμβαδών των κυκλικών τμημάτων ΑΜΔΛΑ, ΑΚΔΛΑ.

$$\begin{aligned} \text{Έτσι } E_{AMDKA} &= E_{AM\Delta LA} + E_{AK\Delta LA} = E_{AM\Delta GA} - E_{\Delta\Delta\Gamma} + E_{AB\Delta KA} - E_{AB\Delta} = \\ &= \frac{\pi(R\sqrt{3})^2 \cdot 60}{360} + \frac{\pi R^2 \cdot 120}{360} - (E_{\Delta\Delta\Gamma} + E_{AB\Delta}) = \frac{\pi R^2}{2} + \frac{\pi R^2}{3} - E_{AB\Gamma\Delta} = \\ &= \frac{\pi R^2}{2} + \frac{\pi R^2}{3} - R^2\sqrt{3} = \left(\frac{5\pi}{6} - \sqrt{3}\right) \cdot R^2 \text{ τ.μ.} \end{aligned}$$